

تقييم الثلاثي الثاني في
الرياضيات

الاسم:

اللقب:

السنة الأولى

الوضعية:

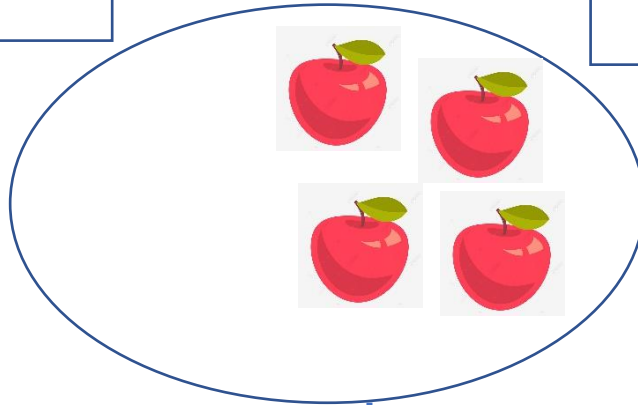


خَرَجْتُ مَعِي تَتَجَوَّلُ فِي الْبُسْتَانِ وَتُلاحِقُ الْفَرَاشَاتِ
وَتَقْطِفُ الْأَزْهَارَ وَتَجْمَعُ التُّفَاحَ مِنَ الْأَشْجَارِ.

السند 1:

جَمَعْتُ الْبَنْتُ خَمْسَ فَرَاشَاتٍ وَثَمَانِي زَهْرَاتٍ وَسِتَّ تَفَاحَاتٍ.

1- أَكْتُبُ كَمَّ كُلِّ مَجْمُوعَةٍ فِي الْإِطَارِ.

2- أَتِمُّ رَسْمَ عُنَاصِرِ الْمَجْمُوعَةِ النَّاقِصَةِ.



مع 1

مع 4

السند 2:

بَيْنَمَا كَانَتْ مُنَى تَصْطَادُ، فَكَرَّتْ فِي عَدِّ الْأَشْجَارِ فَوَجَدَتْ 6 شَجَرَاتِ خَوْخٍ

و 7 شَجَرَاتِ تَفَّاحٍ و 4 شَجَرَاتِ عِنَبٍ.

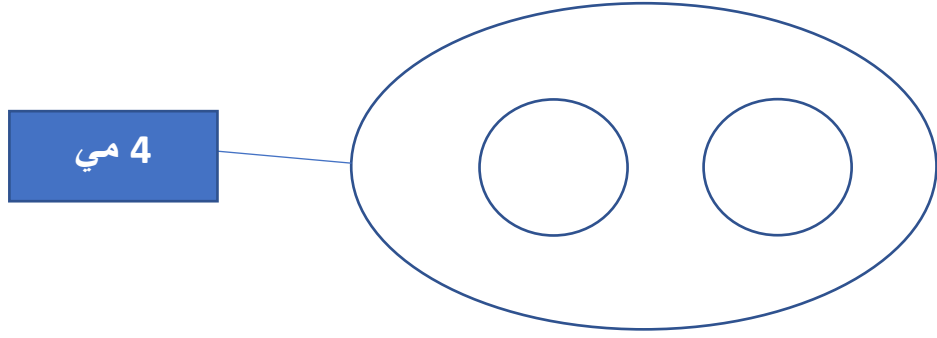
1- أَرْتَبُ عَدَدَ الْأَشْجَارِ تَرْتِيبًا تَصَاعُدِيًّا.

..... > >

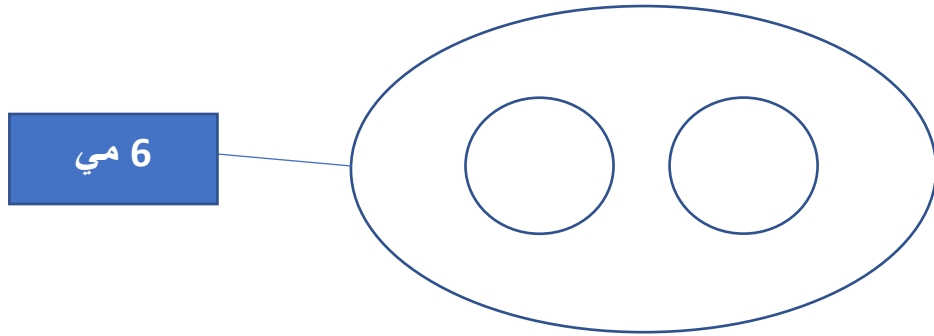
السند 3:

بَاعَتْ مُنَى الْفَرَّاشَاتِ بِ 4 مِي وَ الزَّهْرَاتِ بِ 6 مِي وَ التُّفَاحَاتِ بِ 9 مِي

1- أُمَثِّلُ 4 مِي بِأَقْلَ عَدَدٍ مِنَ الْقِطْعِ النَّقْدِيَّةِ.



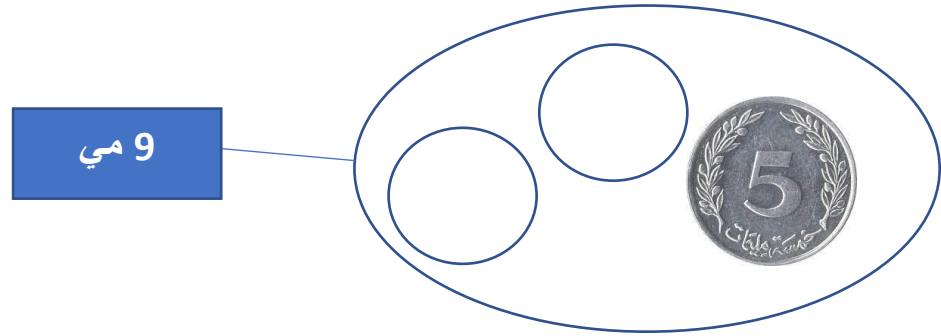
2- أُمَثِّلُ 6 مِي بِقِطْعَتَيْنِ نَقْدِيَّتَيْنِ.



معد 2

معد 3

3- أَكْمِلْ تَمْثِيلَ ثَمَنِ التُّفَاحَاتِ.



4- أَمَثِّلُ الْمَبْلَغَ الْمَالِيَّ 8 مِي بِقِطْعِ نَقْدِيَّةٍ بِنَفْسِ الْقِيَمَةِ.

مع 5

8 مي

جدول إسناد الأعداد

معيّار التميّز	معايير الحد الأدنى				
مع 5	مع 4	مع 3	مع 2	مع 1	
من 0 إلى 4	0	0	0	0	انعدام التملك
	1	1	1	1	دون التملك الأدنى
	2	2	2	2	التملك الأدنى
	3	3	3	3	التملك الأقصى

الحساب الذهني /4

الحساب الذهني

1- ماهو العدد الذي يأتي مباشرة قبل 6؟

.....

2- ماهو العدد الذي يأتي مباشرة بعد 8؟

.....

3- أضع العلامة المناسبة: < أو > أو =

4..... 8 6

9 1 5

4- اكتب الأرقام التالية بلسان القلم:

..... :3

..... :7